

۱۱- یک سواری ۵ نفر سرنشین دارد. در ۲۴ سواری چند نفر سرنشین وجود دارد؟

۱۲- سن مادر نرگس از ۴ برابر سن او، دو سال بیشتر است. اگر نرگس ۸ سال باشد، مادرش چند سال سن دارد؟

۱۱- یک ماشین چاپ در هر ساعت ۷۰۰ برگ بزرگ چاپ می کند. اگر هر برگ، ۱۶ صفحه کتاب باشد. این ماشین در ۱۰ ساعت، چند صفحه کتاب می کند؟

۱۲- وزن های روبرو را با تقریب، به تن تبدیل کنید.

۹۷۸۳۰ →

۳۸۴۳۲ →

۱۲- یک سواری فاصله ۳۴۵ کیلومتری دو شهر را در زمان ۳ ساعت پیموده است. سرعت این سواری چند کیلومتر در ساعت بوده است؟

۱۶- می خواهیم ۱۲ بسته پنج تایی کیک را بین ۶ نفر تقسیم کنیم. به هر نفر چند کیک می رسد؟

۹۶ | ۲۳

۲۸ | ۱۲

۱۱- تقسیم های روبرو را انجام دهید.

نام آموزشگاه:


نام پدر:

ام و نام خانوادگی:

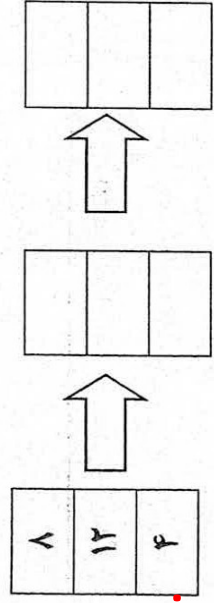
کوچکترین و بزرگترین عدد شش رقمی که رقمهای تکراری نداشته باشند را بنویسید.

بزرگترین =

با توجه به شکل، الگوی هندسی و عدد را بنویسید. سپس شکل هفتم را مشخص کنید.



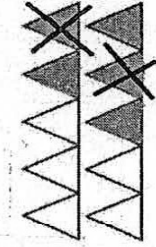

۱- ابتدا عدد های داده شده را بر چهار تقسیم کنید و سپس جواب را با دو جمع کنید.



۱- در چه عددی قرار دهیم تا جواب درست باشد؟

$$۱۰۰۰۰۰ > ۹۰۰۰۰ + \square$$

۱- چه کسری از شکل رنگ شده است؟



۱- تفریق مربوط به شکل را بنویسید.

۱- یک محور بکشید و جمع $\frac{4}{8} + \frac{3}{8} =$ را روی آن نشان دهید.

۱- زهرا $\frac{2}{7}$ فرشی را بافته است. اگر فاطمه نیز $\frac{3}{7}$ از همان فرش را بافته باشد. چه مقدار از این فرش بافته شده است؟

۱- کسرهای روبه رو را تا حد امکان ساده کنید.

$$\frac{60}{90} = \frac{24}{48}$$

۱- برای قسمت رنگی شکل یک ضرب بنویسید.

